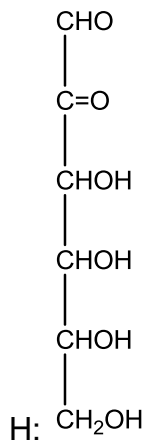
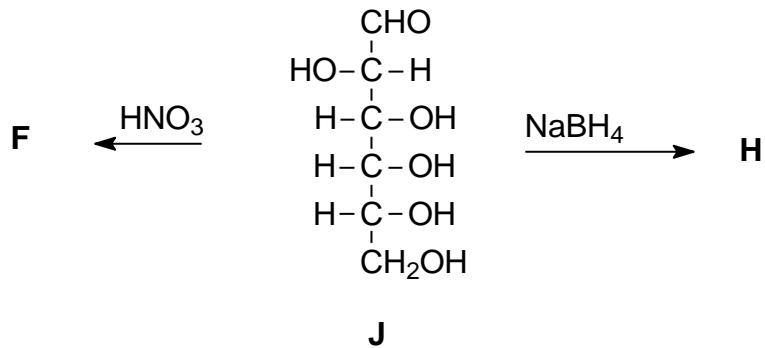
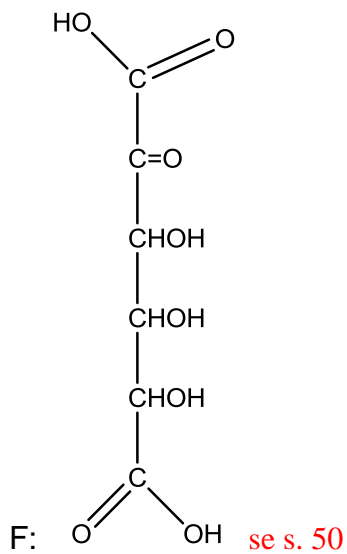


Opgave 3

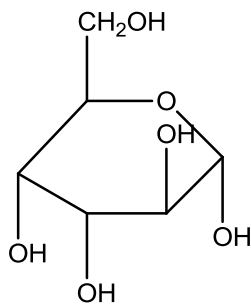
a) Opskriv produkter **F** og **H** i de angivne reaktioner.



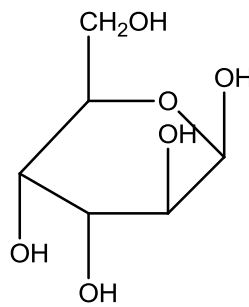
se s. 49



b) Opskriv en pyranosestruktur af J.



alfa-pyranose



beta-pyranose

Se. S. 54 for at være sikker

c) Hvilken sukker kan bruges i en Kiliani-Fischer syntese til syntese af sukkeren J?

Se s. 52, og er ikke sikker men så ledte jeg i repitions noter, og fandt det her men er stadig ikke sikker

cyanidionen CN⁻

